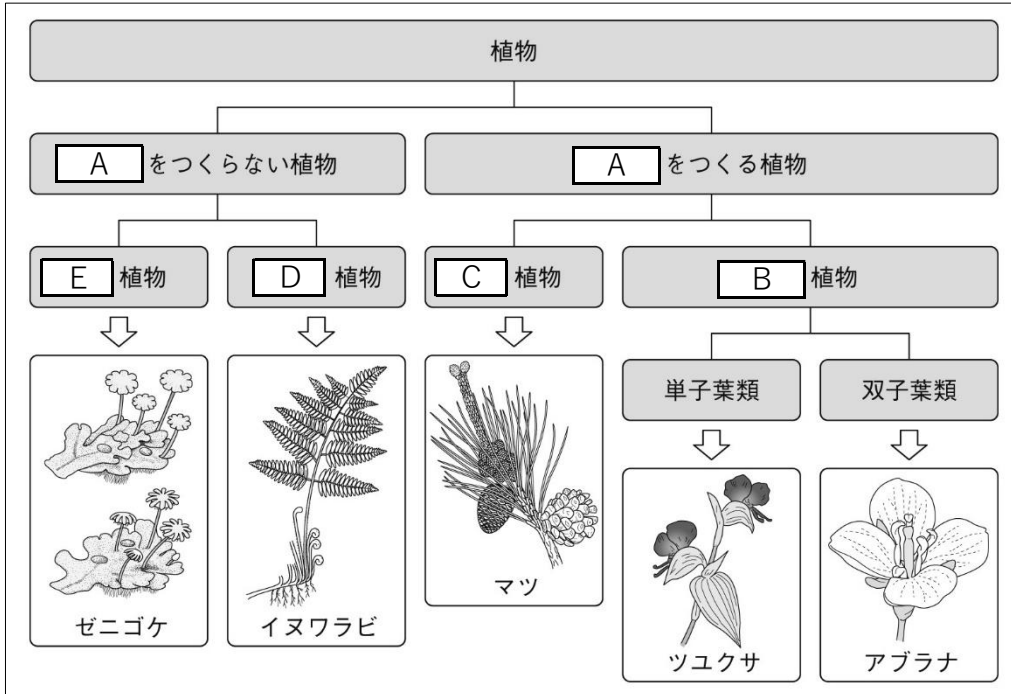


問題

図1 植物の分類



- ① 図1の **A** にあてはまる語句を書きなさい。
- ② 図1の **B** と **C** に入る語句をそれぞれ書きなさい。
- ③ 図1の **B** の植物と **C** の植物の違いを「胚珠」と「子房」という語を使って書きなさい。
- ④ 右の図2で、単子葉類の根をあらわしているのはどちらですか。記号で答えなさい。また、その根は何といいますか。
- ⑤ 双子葉類の葉の葉脈にはどのような特徴があるか、書きなさい。
- ⑥ 右の図3は、マツの花粉の模式図である。図3の中にある空気袋は、マツの花粉にとってどのような利点があるか、書きなさい。
- ⑦ 図1の **D** と **E** に入る語句をそれぞれ書きなさい。
- ⑧ 図1の **D** の植物と **E** の植物の違いを「葉・茎・根」の語句を使って書きなさい。

図2 根の様子

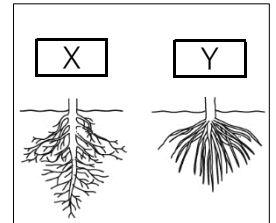
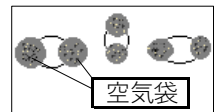


図3 マツの花粉



①		② B	植物	C	植物
③					
④	記号	名称	⑤		
⑥			⑦ D	植物	E 植物
⑧					